

Arm en rijk werkblad 2.1: Sociale & regionale ongelijkheid

Naam: _____

Datum: _____

Op de foto's zie je een duidelijke grens tussen arm en rijk. Op wereldschaal zijn er arme en rijke gebieden, maar zelfs binnen een stad is arm en rijk soms gescheiden door slechts een muurtje of een snelweg. Op de foto linksonder zie je aan de rechterkant een kostschool voor rijke kinderen in de rijke wijk La Malinche in Mexico-Stad. De mensen uit de wijk aan de andere kant van de weg hebben een heel ander leven. Als er ongelijkheid is tussen twee gebieden noemen we dat **regionale ongelijkheid**.





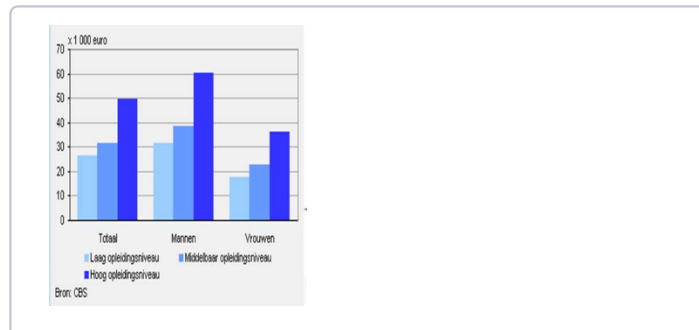
1. Geef bij elke foto 1 duidelijk voorbeeld waaraan je kan zien dat er op de foto sprake is van regionale ongelijkheid.



Sociale ongelijkheid gaat over ongelijkheid tussen (groepen) mensen, niet over het verschil tussen gebieden. Een rijke zakenman kan best in dezelfde regio wonen als een arme schoenenpoetser. Mensen die in Nederland in een verpleeghuis werken, verdienen veel minder dan mensen die advocaat zijn.

Je kan regionale ongelijkheid herkennen als er een regio in voorkomt: "Twente is armer dan Noord-Holland". Je kan sociale ongelijkheid herkennen als het over (groepen) mensen gaat: "Mijnwerkers zijn armer dan piloten" "Onze burens hebben een groter huis dan wij".

2. Geef per afbeelding aan of deze hoort bij regionale of sociale ongelijkheid.




Sociale ongelijkheid

Regionale ongelijkheid

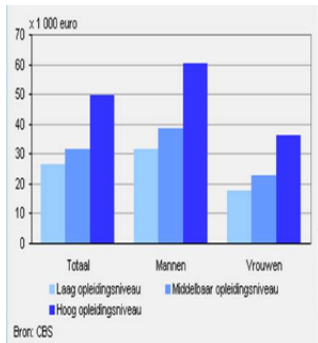
10

3. **Bekijk het kaartje van Nederland. Geef een voorbeeld van regionale ongelijkheid met behulp van het kaartje.**



10

4. **Bekijk het tabel. Geef het verband tussen inkomen en opleidingsniveau.**



10

5. Denk je dat er in een rijk land meer of minder sprake van sociale ongelijkheid dan in een arm land? Leg je antwoord uit.

10

6. Denk je dat er in een rijk land meer of minder sprake is van regionale ongelijkheid, dan in een arm land? Leg je antwoord uit.

7. **Bekijk de cartoon. Wat is de boodschap van deze cartoon?**

